

Cargo:

# Guarda Municipal

## SÓ ABRA QUANDO FOR AUTORIZADO

*Leia com atenção as instruções abaixo:*



Foto: Monumento O Desbravador - Chapecó - SC

- ☺ Você deve receber este Caderno de Provas e o Cartão-Resposta;
- ☺ Confira se os dados do Cartão-Resposta estão corretos; Não rasure, corte, dobre ou amasse seu cartão de respostas, pois em hipótese alguma ele será substituído. Leia as instruções para seu preenchimento e assine no local indicado. **A assinatura é obrigatória no Cartão-Resposta;**
- ☺ Neste caderno de questões, você encontra:
  - 20 questões de Língua Portuguesa;
  - 20 questões de Matemática;
  - 20 questões de Conhecimentos Gerais; e
  - 20 questões de Conhecimentos Específicos.
- ☺ Somente deverão ser preenchidos, no Cartão-Resposta, os campos das perguntas existentes (01 a 80);
- ☺ Não é permitido que os candidatos comunique-se. É proibido também a utilização de equipamentos eletrônicos, o simples fato de manusear já é motivo para exclusão do candidato do concurso;
- ☺ Leia as questões com atenção; Use o Caderno de Provas para dar solução às questões apresentadas;
- ☺ Os Fiscais de Sala não estão autorizados a prestar qualquer esclarecimento sobre a resolução das questões; esta tarefa é obrigação exclusiva do candidato;
- ☺ Use como rascunho o verso das folhas do Caderno de Provas;
- ☺ Não destaque folhas deste Caderno;
- ☺ Revise suas respostas e preencha o Cartão-Resposta;
- ☺ Não deixe nenhuma questão sem resposta, nem com resposta dupla;
- ☺ Duração máxima da prova: 04:00 (Quatro horas);
- ☺ Para sua segurança, após o término desta prova, deposite seu Cartão-Resposta dentro do envelope que está sobre a mesa;
- ☺ Para exercer o direito de recorrer contra qualquer questão o candidato deve seguir as orientações constantes no Edital.

Boa Prova

## Prova de Língua Portuguesa

Texto: **Mudança** (fragmento do Romance **Vidas Secas**)

Na planície avermelhada os juazeiros alargavam duas manchas verdes. Os infelizes tinham caminhado o dia inteiro, estavam cansados e famintos. Ordinariamente andavam pouco, mas como haviam repousado bastante na areia do rio seco, a viagem progredira bem três léguas. Fazia horas que procuravam uma sombra. A folhagem dos juazeiros apareceu longe, através dos galhos pelados da caatinga rala.

Arrastaram-se para lá, devagar, sinhá Vitória com o filho mais novo escanchado no quarto e o baú de folha na cabeça. Fabiano sombrio, cambaio, o aió a tiracolo, a cuia pendurada numa correia presa ao cinturão, a espingarda de pederneira no ombro. O menino mais velho e a cachorra Baleia iam atrás. Os juazeiros aproximaram-se, recuaram, sumiram-se. O menino mais velho pôs-se a chorar, sentou-se no chão.

- Anda, condenado do diabo, gritou-lhe o pai.

Não obtendo resultado fustigou-o com a bainha da faca de ponta. Mas o pequeno esperneou acuado, depois sossegou, deitou-se, fechou os olhos. Fabiano ainda lhe deu algumas pancadas e esperou que ele se levantasse. Como isto não acontecesse, espiou os quatro cantos, zangado, praguejando baixo.

01 - O Romance "**VIDAS SECAS**" é obra do escritor:

- A) Jorge Amado;
- B) Graciliano Ramos;
- C) Érico Veríssimo;
- D) José Lins do Rego.

02 - Os escritores constantes das alternativas da questão anterior fazem parte de que momento literário Brasileiro?

Assinale a alternativa correta:

- A) Romantismo - prosa;
- B) Simbolismo;
- C) Romance da Geração de 30;
- D) Pós Modernismo.

03 - A Obra "**Vidas Secas**" é um romance regionalista, característico da região \_\_\_\_\_ do Brasil.

Assinale a alternativa que preencha corretamente a lacuna.

- A) Norte;
- B) Sudeste;
- C) Sul;
- D) Nordeste.

04 - No presente episódio do Romance Vidas Secas, quantas pessoas estão fazendo a "**Mudança**"?

- A) Duas pessoas;
- B) Três pessoas;
- C) Quatro pessoas;
- D) Cinco pessoas.

05 - De acordo com o texto, qual é o significado da palavra **CAMBAIO**?

"Fabiano sombrio, **cambaio**, o aió a tiracolo."

- A) De pernas tortas;
- B) Cansado;
- C) Triste;
- D) Alegre.

06 - De acordo com o texto, qual é o significado da palavra **PEDERNEIRA**?

"a espingarda de **pederneira** no ombro"

- A) Latão;
- B) Ferro Fundido;
- C) Pedra muito dura;
- D) Madeira.

07 - De acordo com o texto, qual é o significado da palavra **ACUADO**?

"Mas o pequeno esperneou **acuado**..."

- A) Amedrontado;
- B) Empacado;
- C) Nervoso;
- D) Sossegado.

08 - De acordo com o texto, qual é o significado da palavra **AIÓ**?

"Fabiano sombrio, cambaio, o **aió** a tiracolo."

- A) Bodoque;
- B) Facão;
- C) Revólver;
- D) Bolsa de caça feita de fibras.

09 - Anda, condenado do diabo, gritou-lhe o pai.

No período acima, quanto à fala do personagem, temos que tipo de discurso?

- A) Direto;
- B) Indireto;
- C) Indireto livre;
- D) Direto e Indireto.

10 - Observe o fragmento da Poesia "**José**", de Carlos Drummond de Andrade:

Se você gritasse,

Se você gemesse,

Se você tocasse

A valsa vienense.....

Com relação à metrficação, os versos do quarteto acima apresentam \_\_\_\_\_ sílabas poéticas.

Assinale a alternativa que preencha corretamente a lacuna.

- A) Quatro;
- B) Cinco;
- C) Seis;
- D) Sete.

11 - No período "Teus ombros suportavam o mundo" (Carlos Drummond de Andrade), temos uma figura de pensamento, denominada:

- A) Antítese;
- B) Eufemismo;
- C) Ironia;
- D) Hipérbole.

12 - Que ela afaste **de ti** aquelas dores

Que fizeram **de mim** isto que sou!

Sintaticamente, as palavras destacadas no período acima exercem a função de:

- A) Objeto Direto;
- B) Agente da Passiva;
- C) Adjunto Adnominal;
- D) Objeto Indireto.

13 - De acordo com a Fonética, na palavra “**ENXÁGÜEM**” temos:

- ( ) A) Hiato;
- ( ) B) Ditongo decrescente nasal;
- ( ) C) Ditongo crescente nasal;
- ( ) D) Tritongo.

14 - Analise o material, **portanto posso falar sobre ele**. A oração destacada do período é uma:

- ( ) A) Coordenada sindética aditiva;
- ( ) B) Coordenada sindética conclusiva;
- ( ) C) Coordenada sindética explicativa;
- ( ) D) Coordenada sindética adversativa.

15 - Não veste com luxo **porque o tio não é rico**. (Machado de Assis).

A oração destacada do período é uma:

- ( ) A) Subordinada Adverbial Causal;
- ( ) B) Subordinada Adverbial Comparativa;
- ( ) C) Subordinada Adverbial Condicional;
- ( ) D) Subordinada Adverbial Consecutiva.

16 - Lembrava-me de que deixara toda a minha vida ao acaso e que não pusera ao estudo e ao trabalho com a força **de que** era capaz. (Lima Barreto) Qual a função sintática do termo destacado?

- ( ) A) Predicativo;
- ( ) B) Complemento Nominal;
- ( ) C) Adjunto Adverbial;
- ( ) D) Agente da Passiva.

17 - O substantivo coletivo “**FLORILÉGIO**” designa um grupo de:

- ( ) A) textos escolhidos;
- ( ) B) gente ordinária;
- ( ) C) flores;
- ( ) D) jornais e revistas.

18 - **Precisa-se** de carvalho; não **se precisa** do caniço. (C. dos Anjos).

Assinale a alternativa que corresponda ao sujeito das orações do período:

- ( ) A) Oração sem sujeito;
- ( ) B) Sujeito Oculto;
- ( ) C) Sujeito Indeterminado;
- ( ) D) Sujeito Inexistente.

19 - Com relação à formação de palavras, temos na palavra “**ENSURDECER**” o processo de:

- ( ) A) Derivação Prefixal;
- ( ) B) Derivação Sufixal;
- ( ) C) Derivação Prefixal e Sufixal;
- ( ) D) Derivação Parassintética.

20 - Com relação aos termos da oração, o Sujeito e o Predicado são:

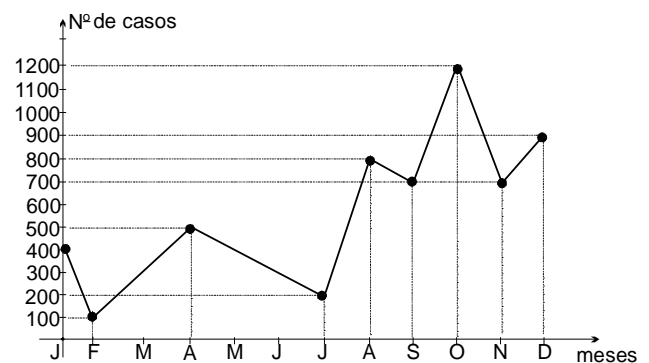
- ( ) A) Termos Integrantes;
- ( ) B) Termos Acessórios;
- ( ) C) Termos Essenciais;
- ( ) D) Termos Abundantes.

## Prova de Matemática

21 - Luís é representante de uma distribuidora de temperos. Ele costuma percorrer 1.260 km em 05 dias, viajando 06 horas por dia. Quantos quilômetros ele percorrerá em 15 dias, viajando 04 horas por dia?

- ( ) A) 2.880 km.
- ( ) B) 2.520 km.
- ( ) C) 3.780 km.
- ( ) D) 4.410 km.

22 - Em um hospital de São Paulo, foi pesquisado, durante um ano, o número de mortes causadas pelo câncer, e o resultado da pesquisa encontra-se representados no gráfico abaixo:



Pela análise do gráfico, é correto afirmar que:

- ( ) A) Neste hospital o número total de mortes causada pelo câncer no 4º trimestre foi 2.800;
- ( ) B) Neste hospital o número total de mortes causada pelo câncer no 2º semestre é de 1.500 mortes;
- ( ) C) Neste hospital o número de mortes causada pelo câncer foi crescente em todo o período considerado;
- ( ) D) Neste hospital o número de mortes causado pelo câncer foi mínimo no mês de julho.

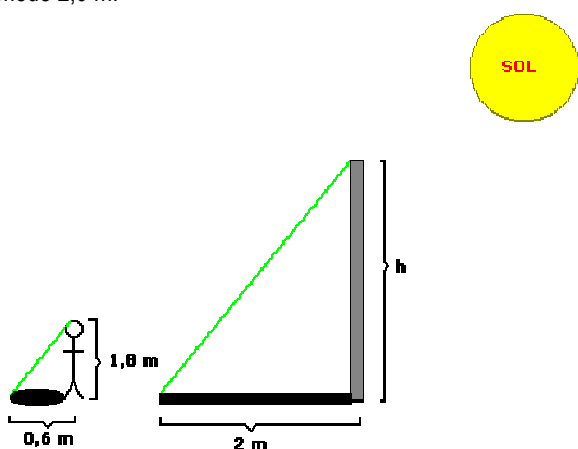
23 - Um perfume é vendido em dois frascos cilíndricos. No primeiro deles, o raio mede 02 cm e a altura 05 cm, no segundo, o raio mede 05 cm e a altura 02 cm. Todas as medidas são internas. O perfume do primeiro frasco é vendido a R\$ 54,00 e o do segundo frasco é vendido a R\$ 120,00. Nos dois casos, os frascos são vendidos completamente cheios. (considere  $\pi = 3,14$ ) Em relação ao problema apresentado, é correto afirmar que:

- ( ) A) Para calcular o volume dos frascos cilíndricos, basta multiplicar  $2 \times 5$ .
- ( ) B) A capacidade do 2º frasco é mais que o dobro da capacidade do primeiro frasco.
- ( ) C) A capacidade do 1º frasco é igual a capacidade do 2º frasco.
- ( ) D) Será indiferente comprar o 1º ou o 2º frasco, pois eles possuem as mesmas dimensões.

24 - Uma Entidade Filantrópica está participando de um programa de auxílio as famílias que sofreram com as recentes inundações e resolveu dividir 1.440 kg de alimentos arrecadados entre três famílias cadastradas, diretamente proporcionais ao número de filhos que cada uma delas possuíam que eram 04, 06 e 08 respectivamente: Quantos kg de alimentos deverão receber respectivamente cada uma das famílias?

- ( ) A) 230 kg, 370 kg e 560 kg.
- ( ) B) 240 kg, 320 kg e 880 kg.
- ( ) C) 320 kg, 480 kg e 640 kg.
- ( ) D) 220 kg, 470 kg e 750 kg.

25 - Em um determinado horário de um dia ensolarado a sombra de uma pessoa que tem 1,8 m de altura mede 0,6 m. No momento, ao seu lado, a sombra projetada de um poste mede 2,0 m.



Nestas condições podemos afirmar que a altura do poste é:

- ( ) A) 4 m.
- ( ) B) 5,10 m.
- ( ) C) 5,5 m.
- ( ) D) 6 m.

26 - Para revestir uma parede que tem a área de 13,8 m<sup>2</sup>, foram usados azulejos retangulares com dimensões de 0,20 m por 0,30 m cada um. Entre as afirmativas apresentadas nos itens a seguir, assinale a afirmativa verdadeira:

- ( ) A) O perímetro de cada um dos azulejos é igual a 0,50 metros;
- ( ) B) Para revestir completamente essa parede foram necessários 230 azulejos;
- ( ) C) A área de cada azulejo é superior a meio metro quadrado.
- ( ) D) Para revestir completamente essa parede foram necessários 123 azulejos.

27 - Em uma loja que vende confecções em geral, os vendedores ganham R\$ 540,00 fixos por mês, mais 5,5% de comissão sobre suas vendas. No mês de maio um dos vendedores vendeu R\$ 24.000,00 em mercadorias. No final do mês o salário do vendedor foi de:

- ( ) A) R\$ 1.320,00.
- ( ) B) R\$ 1.170,00.
- ( ) C) R\$ 1.860,00.
- ( ) D) R\$ 1.021,00.

28 - Uma plantação de feijão, ocupa 3/5 de um terreno retangular que possui 02 km x 1,5 km de dimensões. A área desse terreno ocupada com o plantio de feijão é:

- ( ) A) 3,0 km<sup>2</sup>.
- ( ) B) 0,6 km<sup>2</sup>.
- ( ) C) 1,8 km<sup>2</sup>.
- ( ) D) 2,5 km<sup>2</sup>.

29 - Um vendedor ambulante está vendendo bandeiras do Brasil e cornetas. Se 03 bandeiras e 02 cornetas custam R\$ 17,50 e 02 bandeiras e 03 cornetas custam R\$ 20,00. O preço de cada corneta é de:

- ( ) A) R\$ 3,00.
- ( ) B) R\$ 5,00.
- ( ) C) R\$ 2,00.
- ( ) D) R\$ 2,50.

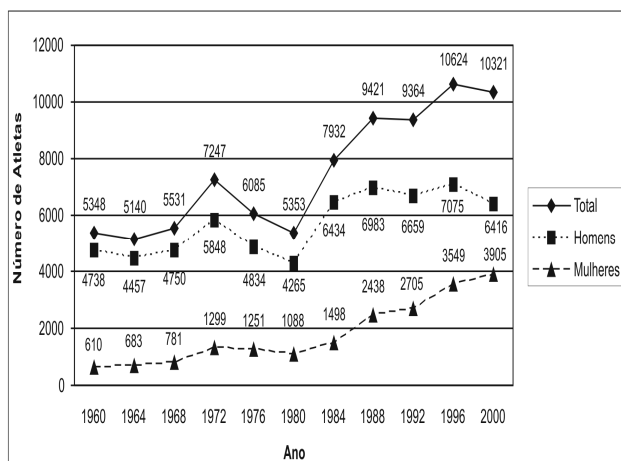
30 - Analisando as proposições apresentadas em cada um dos itens a seguir, assinale a alternativa que **NÃO** está correta:

- ( ) A) Na equação:  $-8x + 6x^2 + 10 = 0$  os valores de  $a = 6$ ,  $b = -8$  e  $c = 10$ ;
- ( ) B) As raízes da equação:  $x^2 - 6x = -5$  são: 5 e 1;
- ( ) C) O gráfico da equação quadrática  $x^2 - 3x - 4 = 0$  é obrigatoriamente uma reta;
- ( ) D) Uma equação do 2º grau não tem raízes reais se  $\Delta < \text{zero}$ .

31 - Um metrô, deslocando-se a uma velocidade média de 400 Km/h, faz um determinado percurso em 03 horas. Em quanto tempo faria esse mesmo percurso, se a velocidade utilizada fosse de 480 km/h?

- ( ) A) 1,5 horas.
- ( ) B) 3,6 horas.
- ( ) C) 2,5 horas.
- ( ) D) 2,8 horas.

32 - Nas últimas décadas o número de atletas nas Olimpíadas vem aumentando, como mostra o gráfico:



Nas últimas cinco olimpíadas o aumento ocorreu devido ao crescimento da participação de:

- ( ) A) mulheres, pois a de homens praticamente não se alterou.
- ( ) B) homens, pois a de mulheres praticamente não se alterou.
- ( ) C) homens, pois a de mulheres vem diminuindo a cada Olimpíada.
- ( ) D) mulheres, pois a de homens vem diminuindo a cada Olimpíada.

**33** - Uma pesquisa realizada recentemente sobre orçamentos familiares, mostra alguns itens de despesa na distribuição de gastos de dois grupos de famílias com rendas mensais bem diferentes. Considere duas famílias com rendas de R\$ 400,00 e R\$ 6.000,00, respectivamente, cujas despesas variam de acordo com os valores das faixas apresentadas. Nesse caso, os valores, em **R\$ (reais)**, gastos com transporte pela família de maior renda, em relação aos da família de menor renda, são, aproximadamente:

TIPO DE DESPESA	RENDA ATÉ R\$ 400,00	RENDA MAIOR OU IGUAL A R\$ 6.000,00
Habitação	37%	23%
Alimentação	33%	9%
Transporte	8%	17%
Saúde	4%	6%
Educação	0,3%	5%
Outros	17,7%	40%

- ( ) A) Aproximadamente duas vezes mais.  
 ( ) B) Aproximadamente quinze vezes mais.  
 ( ) C) Aproximadamente equivalentes.  
 ( ) D) Aproximadamente trinta vezes mais.

**34** - No auditório de um Teatro, a primeira fileira tem 12 cadeiras, a segunda 16 cadeiras, a terceira 20 cadeiras e assim por diante. Quantas fileiras há nesse auditório sabendo-se que a capacidade do mesmo é de 532 pessoas sentadas:

- ( ) A) 14.  
 ( ) B) 22.  
 ( ) C) 12.  
 ( ) D) 20.

**35** - No setor de um hospital trabalham 04 médicos e 10 enfermeiras. Quantas equipes distintas, constituída cada uma de 01 médico e 04 enfermeiras, podem ser formadas nesse setor?

- ( ) A) 714.  
 ( ) B) 220.  
 ( ) C) 840.  
 ( ) D) 520.

**36** - Um artista plástico dispõe de 06 cores diferentes de tinta e pode misturá-las duas a duas, em porções iguais, para obter novos tons. O total de novas cores que possuirá, desta forma, será igual a:

- ( ) A) 12.  
 ( ) B) 63.  
 ( ) C) 20.  
 ( ) D) 15.

**37** - Uma toalha de banho que custava R\$ 12,50, teve um aumento, passando a custar R\$ 14,50. A taxa de reajuste sobre o preço antigo é de:

- ( ) A) 16 %.  
 ( ) B) 2 %.  
 ( ) C) 10 %.  
 ( ) D) 5 %.

**38** - Em um dia ensolarado um adolescente de 1,70 m está em pé, em uma calçada plana, ao seu lado tem um postel de 03 metros de altura e que projeta neste instante uma sombra de 2,5 metros. Neste momento o comprimento da sombra do adolescente, projetada na calçada, é de aproximadamente:

- ( ) A) 1,8 m.  
 ( ) B) 1,41 m.  
 ( ) C) 2,2 m.  
 ( ) D) 5 m.

**39** - Sabe-se que a distância entre as duas cidades **A** e **B** é de 234 km. Um ciclista partiu da cidade **A** para a cidade **B** e quando havia percorrido 1/3 do trajeto a sua bicicleta estragou. A quantidade de quilômetros que faltavam para completar o trajeto era de:

- ( ) A) 78 km.  
 ( ) B) 156 km.  
 ( ) C) 117 km.  
 ( ) D) 105 km.

**40** - Quantos ml de água cabem aproximadamente em um cilindro de raio 08 cm e altura 15 cm?

- ( ) A) 3.014,4 ml.  
 ( ) B) 2.156 ml.  
 ( ) C) 1.755,8 ml.  
 ( ) D) 120,5 ml.

### Prova de Conhecimentos Gerais

**41** - São municípios limítrofes do município de Chapecó, exceto:

- ( ) A) Coronel Freitas;  
 ( ) B) Seara;  
 ( ) C) Xanxerê;  
 ( ) D) Guatambu.

**42** - São Etnias predominantes no município de Chapecó, exceto:

- ( ) A) Portuguesa;  
 ( ) B) Alemã;  
 ( ) C) Italiana;  
 ( ) D) Polonesa.

**43** - São eventos realizados na cidade de Chapecó, exceto:

- ( ) A) Festa do Frango e do Peru;  
 ( ) B) Festa da Linguíça;  
 ( ) C) Festa do Milho;  
 ( ) D) Campeonato Catarinense de Automobilismo.

**44** - Chapecó é palavra de origem Kaingang com várias interpretações: "chapadão alto", "chapéu feito de cipó" e "põe no chapéu" para nativos da língua. Segundo pesquisas feitas pelo Dr. Selistre de Campos, a palavra origina-se dos termos "echa" + "apê" + "gô", que na língua dos nativos significa "donde se avista o caminho da roça". A denominação do município de Chapecó foi oficializada em:

- ( ) A) 25 de julho de 1917;  
 ( ) B) 07 de setembro de 1917;  
 ( ) C) 25 de outubro de 1917;  
 ( ) D) 25 de agosto de 1917.

45 - Assinale a única alternativa que não diz respeito ao território do Oeste Catarinense, em fatos históricos:

- A) Guerra dos Mascates;
- B) Questão de Palmas;
- C) Guerra dos Farrapos;
- D) Guerra do Contestado.

46 - A capital do Estado Brasileiro de Tocantins é:

- A) Campo Grande;
- B) Palmas;
- C) Vitória;
- D) João Pessoa.

47 - O Estado com a maior população da **Região Sul** do Brasil é:

- A) Santa Catarina;
- B) Rio Grande do Sul;
- C) Paraná;
- D) Mato Grosso do Sul.

48 - A capital do Brasil, Brasília, foi construída no Governo do Presidente:

- A) Getúlio Vargas;
- B) João Goulart;
- C) Juscelino Kubitschek de Oliveira;
- D) Castelo Branco.

49 - Com o fim do Governo Militar, e a volta das eleições diretas para Presidente, no final dos anos 80, a primeira eleição direta foi vencida, dentre os 22 candidatos que a disputaram, por um candidato que prometeu cassar os marajás, a moralização do governo e o corte dos gastos públicos, tendo auto-apelidado de "caçador de marajás". Estamos falando do Presidente:

- A) Itamar Franco;
- B) Fernando Collor;
- C) Fernando Henrique Cardoso;
- D) José Sarney.

50 - São municípios catarinenses que fazem divisa com a República Argentina, **exceto**:

- A) Paraíso;
- B) Anchieta;
- C) Princesa;
- D) Bandeirante.

51 - Três importantes portos marítimos estão instalados no litoral catarinense, permitindo o acesso de navios de até 45 mil toneladas de carga e operando com contêineres. Há linhas regulares entre Santa Catarina e os principais portos do mundo. Os Portos a que se refere este enunciado são, **exceto**:

- A) Porto de São Francisco do Sul.
- B) Porto de Itajaí.
- C) Porto de Tubarão.
- D) Porto de Imbituba.

52 - Qual a origem do nome do Estado de Santa Catarina. Assinale a alternativa **correta**:

- A) O Estado de Santa Catarina recebeu este nome em homenagem a uma Santa denominada Catarina de Alexandria, que era amante do Imperador romano Maxêncio e se apaixonou perdidamente por um de seus soldados, sendo torturada e degolada por tal motivo. Passado alguns anos, os cristãos começaram a implorar e rogar a sua proteção, o seu auxílio, fazer orações e cerimônias religiosas no aniversário de sua morte, dia vinte e cinco de novembro.
- B) O Estado de Santa Catarina recebeu este nome em homenagem a uma moça que viveu há muitos séculos, numa cidade do Egito, chamada Alexandria. Catarina – esse era seu nome – é conhecida como mártir, que quer dizer testemunha ou defensora da Fé, porque não quis abandonar a Fé cristã. Por esse motivo, foi torturada, passou por grandes sofrimentos e foi degolada por ordem do Imperador romano Maxêncio.
- C) O Estado de Santa Catarina recebeu este nome em homenagem a uma menina nascida no ano de 327 D.C., que fez seus primeiros milagres nos primeiros dias de vida. Sua mãe que tinha Tuberculose e pensou-se não sobreviver à gravidez, simplesmente foi curada ao tocar na menina ao nascer. Uma vizinha que sofria de dores constantes em uma das pernas devido a uma grande ferida que não curava, foi milagrosamente curada assim que foi visitar a menina e tocá-la. A partir daí realizou inúmeros milagres e foi considerada Santa pela Igreja.
- D) Nenhuma das alternativas está correta.

53 - Acusado de comandar um esquema de corrupção que pagaria propina para deputados que compõem a base aliada do governo foi preso no dia 11 de fevereiro 2010. Na história recente do país, é a primeira vez que um governador em exercício do cargo é preso. Trata-se do ex-governador:

- A) do Estado da Paraíba, Cássio Cunha Lima.
- B) do Estado do Tocantins, Marcelo Miranda.
- C) do Estado do Maranhão, Jackson Lago.
- D) do Distrito Federal, José Roberto Arruda.

54 – Uma combinação de garimpo ilegal, divisões étnicas e falta de segurança na fronteira norte do Brasil compôs o cenário para os ataques sofridos por brasileiros na noite de 24 de dezembro de 2009, véspera de Natal, na cidade de Albina, localizada a 150 quilômetros do capital do país. País de língua holandesa e maioria hindu, tem pouco mais de três décadas de independência e concentra uma das maiores diversidades culturais do mundo. Em que país ocorreram os fatos a que se refere o texto acima?

- A) Venezuela.
- B) Colômbia.
- C) Bolívia.
- D) Suriname.

## Prova de Conhecimentos Específicos

### **Para responder as próximas questões:**

I. CTB = Código de Trânsito Brasileiro (lei nº 9.503/97);

II. Considere a redação vigente do CTB, com suas alterações.

55 - Na noite de 20 de abril de 2010, uma explosão na plataforma Deepwater Horizon, arrendada pela empresa British Petroleum (BP), matou 11 funcionários no Golfo do México. Dois dias depois, a plataforma afundou. Trata-se de um vazamento de petróleo de grandes proporções ocorrido na costa:

- ( ) A) dos Estados Unidos.
- ( ) B) do México.
- ( ) C) do Canadá.
- ( ) D) dos países da América Central.

56 - Uma ameaça de crise econômica atingiu a União Européia, nesse ano de 2010, e assustou o mundo – ainda cauteloso pela recente crise norte americana. Referida ameaça teve origem devido às dificuldades econômicas enfrentadas por qual país europeu?

- ( ) A) Grécia.
- ( ) B) Inglaterra.
- ( ) C) Itália.
- ( ) D) Turquia.

57 - Os desastres naturais frequentemente fazem vítimas no mundo todo. Recentemente, em fevereiro de 2010, um país sul americano foi atingido por um forte tremor de terras, considerado a pior catástrofe natural do país nos últimos 50 anos, de acordo com dados do Serviço Geológico dos Estados Unidos. A que país se refere o texto?

- ( ) A) Haiti.
- ( ) B) Peru.
- ( ) C) Chile.
- ( ) D) Honduras.

58 - A região do conflito estava localizada entre os dois Estados. Afinal, era uma área rica em erva-mate e, sobretudo, madeira. Originalmente, os moradores da região eram posseiros caboclos e pequenos fazendeiros que viviam da comercialização daqueles produtos. Com quase 46 meses de conflito, superou até mesmo Canudos em duração e número de mortes. Famintos e com cada vez mais baixas, diante do conflito prolongado, da força e crueldade das tropas oficiais e da epidemia de tifo, os revoltos caminharam para a derrota final, consumada em agosto de 1916 com a prisão do último líder. O texto trata da:

- ( ) A) Revolução Farroupilha.
- ( ) B) Revolução Federalista.
- ( ) C) Guerra do Paraguai.
- ( ) D) Guerra do Contestado.

59 - Das alternativas abaixo, indique a que contém um trecho do Hino da Independência do Brasil:

- ( ) A) Brava gente brasileira!
- ( ) B) Verás que um filho teu não foge à luta,
- ( ) C) - paz no futuro e glória no passado.
- ( ) D) Fulguras, ó Brasil, florão da América,

60 - A duração dos mandatos dos cargos eletivos já foram objeto de mudanças no Brasil. Houve tempo em que o mandato do Presidente era de cinco anos. Atualmente, a duração do mandato:

- ( ) A) é igual para todos os cargos do legislativo municipal, estadual e federal.
- ( ) B) é de quatro anos para todos os cargos do poder legislativo e executivo.
- ( ) C) é de seis anos para o cargo de Governador de Estado.
- ( ) D) é de oito anos para o cargo de Senador.

61 - De acordo com o Art. 5º da Constituição, todos são iguais perante a lei, sem distinção de qualquer natureza, garantindo-se aos brasileiros e aos estrangeiros residentes no País a inviolabilidade do direito à vida, à liberdade, à igualdade, à segurança e à propriedade, nos termos seguintes, **exceto**:

- ( ) A) ninguém será submetido a tortura nem a tratamento desumano ou degradante;
- ( ) B) é assegurado o direito de resposta, proporcional ao agravo, além da indenização por dano material, moral ou à imagem;
- ( ) C) é livre a manifestação do pensamento, sendo permitido o anonimato;
- ( ) D) ninguém será obrigado a fazer ou deixar de fazer alguma coisa senão em virtude de lei.

62 - Ainda de acordo com o Art. 5º da Constituição, todos são iguais perante a lei, sem distinção de qualquer natureza, garantindo-se aos brasileiros e aos estrangeiros residentes no País a inviolabilidade do direito à vida, à liberdade, à igualdade, à segurança e à propriedade, nos termos seguintes, **exceto**:

- ( ) A) ninguém será preso senão em flagrante delito ou por ordem escrita e fundamentada de autoridade judiciária competente, salvo nos casos de transgressão militar ou crime propriamente militar, definidos em lei;
- ( ) B) a prisão de qualquer pessoa e o local onde se encontre serão comunicados imediatamente ao juiz competente e à família do preso ou à pessoa por ele indicada;
- ( ) C) o preso será informado de seus direitos, entre os quais o de permanecer calado, sendo-lhe assegurada a assistência da família e de advogado;
- ( ) D) poderá haver prisão civil por dívida, exceto a do responsável pelo inadimplemento voluntário e inescusável de obrigação alimentícia e a do depositário infiel.

63 - De acordo com o art. 31 da Constituição Federal, a fiscalização do Município será exercida pelo Poder Legislativo Municipal, mediante controle externo, e pelos sistemas de controle interno do Poder Executivo Municipal, na forma da lei. Nestes termos, as alternativas abaixo estão corretas, **exceto**:

- ( ) A) O controle externo da Câmara Municipal será exercido com o auxílio dos Tribunais de Contas dos Estados ou do Município ou dos Conselhos ou Tribunais de Contas dos Municípios, onde houver.
- ( ) B) O parecer prévio, emitido pelo órgão competente sobre as contas que o Prefeito deve anualmente prestar, só deixará de prevalecer por decisão de dois terços dos membros da Câmara Municipal.
- ( ) C) As contas dos Municípios ficarão, durante sessenta dias, anualmente, à disposição de qualquer contribuinte, para exame e apreciação, o qual poderá questionar-lhes a legitimidade, nos termos da lei.
- ( ) D) É facultada a criação de Tribunais, Conselhos ou órgãos de Contas Municipais, onde não houver.

**64** - A administração pública direta e indireta de qualquer dos Poderes da União, dos Estados, do Distrito Federal e dos Municípios, nos termos da Constituição Federal, obedecerá aos seguintes princípios, entre outros: Assinale a alternativa incorreta:

- ( ) A) Impessoalidade e moralidade;
- ( ) B) Moralidade e eficiência;
- ( ) C) Eficiência e publicidade;
- ( ) D) Legalidade e pessoalidade.

**65** - De acordo com o Art. 144 da Constituição Federal, a segurança pública, dever do Estado, direito e responsabilidade de todos, é exercida para a preservação da ordem pública e da incolumidade das pessoas e do patrimônio, através dos seguintes órgãos: I - polícia federal; II - polícia rodoviária federal; III - polícia ferroviária federal; IV - polícias civis; V - polícias militares e corpos de bombeiros militares.

Em seus parágrafos, o referido artigo, além de outras, traz as seguintes definições, **exceto**:

- ( ) A) Às polícias civis, dirigidas por Comandantes da Polícia Militar, incumbem, ressalvada a competência da União, as funções de polícia judiciária, repressiva e a apuração de infrações penais, exceto as militares.
- ( ) B) Os Municípios poderão constituir guardas municipais destinadas à proteção de seus bens, serviços e instalações, conforme dispuser a lei.
- ( ) C) Às polícias militares cabem a polícia ostensiva e a preservação da ordem pública; aos corpos de bombeiros militares, além das atribuições definidas em lei, incumbe a execução de atividades de defesa civil.
- ( ) D) A lei disciplinará a organização e o funcionamento dos órgãos responsáveis pela segurança pública, de maneira a garantir a eficiência de suas atividades.

**66** - De acordo com o Código Penal, configura uma das hipóteses de peculato, cuja a pena é de reclusão, de 2 a 12 anos, e multa: (Assinale a alternativa correta).

- ( ) A) Facilitar, com infração de dever funcional, a prática de contrabando ou descaminho.
- ( ) B) Dar às verbas ou rendas públicas aplicação diversa da estabelecida em lei.
- ( ) C) Apropriar-se o funcionário público de dinheiro, valor ou qualquer outro bem móvel particular, de que tem a posse em razão do cargo, ou desviá-lo, em proveito próprio ou alheio.
- ( ) D) Patrocinar, direta ou indiretamente, interesse privado perante a administração pública, valendo-se da qualidade de funcionário.

**67** - Estabelecer as normas regulamentares referidas no CTB e as diretrizes da Política Nacional de Trânsito; coordenar os órgãos do Sistema Nacional de Trânsito, objetivando a integração de suas atividades; estabelecer e normatizar os procedimentos para a imposição, a arrecadação e a compensação das multas por infrações cometidas em unidade da Federação diferente da do licenciamento do veículo; entre outras, são competências do:

- ( ) A) DETRAN;
- ( ) B) DENATRAN;
- ( ) C) CONTRAN;
- ( ) D) CETRAN.

**68** - O CTB trata das normas gerais de circulação e conduta. Em relação a este tema é **incorreto** afirmar:

- ( ) A) Nas vias urbanas e nas rurais de pista dupla, a circulação de bicicletas deverá ocorrer, quando não houver ciclovia, ciclofaixa, ou acostamento, ou quando não for possível a utilização destes, nos bordos da pista de rolamento, sempre no sentido contrário de circulação regulamentado para a via, com preferência sobre os veículos automotores.
- ( ) B) Antes de colocar o veículo em circulação nas vias públicas, o condutor deverá verificar a existência e as boas condições de funcionamento dos equipamentos de uso obrigatório, bem como assegurar-se da existência de combustível suficiente para chegar ao local de destino.
- ( ) C) Quando proibido o estacionamento na via, a parada deverá restringir-se ao tempo indispensável para embarque ou desembarque de passageiros, desde que não interrompa ou perturbe o fluxo de veículos ou a locomoção de pedestres.
- ( ) D) Nas vias providas de acostamento, a conversão à esquerda e a operação de retorno deverão ser feitas nos locais apropriados e, onde estes não existirem, o condutor deverá aguardar no acostamento, à direita, para cruzar a pista com segurança.

**69** - Ao estabelecer normas sobre pedestres e condutores de veículos não motorizados, o CTB determina que:

- ( ) A) Nas áreas urbanas, quando não houver passeios ou quando não for possível a utilização destes, a circulação de pedestres na pista de rolamento será feita com prioridade para os veículos, pelos bordos da pista, em fila única, inclusive nas situações em que a segurança ficar comprometida.
- ( ) B) É assegurada ao pedestre a utilização dos passeios ou passagens apropriadas das vias urbanas e dos acostamentos das vias rurais para circulação, podendo a autoridade competente permitir a utilização de parte da calçada para outros fins, desde que não seja prejudicial ao fluxo de pedestres. O ciclista desmontado empurrando a bicicleta equipara-se ao pedestre em direitos e deveres.
- ( ) C) Os pedestres que estiverem atravessando a via sobre as faixas delimitadas para esse fim terão prioridade de passagem, inclusive nos locais com sinalização semafórica, onde terão a preferência independentemente da indicação do sinal luminoso.
- ( ) D) Nas vias rurais, quando não houver acostamento ou quando não for possível a utilização dele, a circulação de pedestres, na pista de rolamento, será feita com prioridade sobre os veículos, pelos bordos da pista, em fila única, no mesmo sentido do deslocamento de veículos, exceto em locais proibidos pela sinalização e nas situações em que a segurança ficar comprometida.



**70** - Quanto às normas de educação para o trânsito de que cuida o CTB, está **incorreta** a afirmação contida na alternativa:

- ( ) A) A educação para o trânsito será promovida na pré-escola e nas escolas de 1º, 2º e 3º graus, por meio de planejamento e ações coordenadas entre os órgãos e entidades do Sistema Nacional de Trânsito e de Educação, da União, dos Estados, do Distrito Federal e dos Municípios, nas respectivas áreas de atuação.
- ( ) B) Toda peça publicitária destinada à divulgação ou promoção, nos meios de comunicação social, de produto oriundo da indústria automobilística ou afim, incluirá, obrigatoriamente, mensagem educativa de trânsito a ser conjuntamente veiculada.
- ( ) C) A educação para o trânsito é direito de todos e constitui dever prioritário para os componentes do Sistema Nacional de Trânsito.
- ( ) D) A veiculação de publicidade feita em desacordo com as condições fixadas no CTB sujeitam o infrator a suspensão do direito de dirigir.

**71** - Segundo o disposto no CTB, está **incorreta** a afirmação contida na alternativa:

- ( ) A) Somente é permitido afixar sobre a sinalização de trânsito e respectivos suportes, ou junto a ambos, qualquer tipo de publicidade, inscrições, legendas e símbolos que não se relacionem com a mensagem da sinalização quando expressamente autorizadas pelo órgão de trânsito com circunscrição sobre a via.
- ( ) B) Nas vias públicas e nos imóveis é proibido colocar luzes, publicidade, inscrições, vegetação e mobiliário que possam gerar confusão, interferir na visibilidade da sinalização e comprometer a segurança do trânsito.
- ( ) C) Quanto a ordem de prevalência da sinalização, as ordens do agente de trânsito prevalecem sobre as normas de circulação e outros sinais.
- ( ) D) Os sinais de trânsito classificam-se em verticais, horizontais, dispositivos de sinalização auxiliar, luminosos, sonoros e gestos do agente de trânsito e do condutor.

**72** - Quanto à condução de escolares, indique a alternativa correta segundo as normas do CTB:

- ( ) A) Os veículos especialmente destinados à condução coletiva de escolares somente poderão circular nas vias com autorização emitida pelo órgão ou entidade executiva de trânsito dos Municípios.
- ( ) B) Os veículos especialmente destinados à condução coletiva de escolares deverão ser submetidos a inspeção semestral para verificação dos equipamentos obrigatórios e de segurança.
- ( ) C) O condutor habilitado na categoria D, que possuir 20 anos de idade, poderá conduzir veículos escolares.
- ( ) D) Para conduzir veículos escolares o condutor não pode ter cometido nenhuma infração nos últimos 12 meses.

**73** - O transporte remunerado de mercadorias em motocicletas e motonetas (moto-frete) tem sido muito debatida no Brasil. Sobre o tema é correto dizer:

- ( ) A) O CTB não regula o tema.
- ( ) B) As motocicletas e motonetas destinadas ao transporte remunerado de mercadorias – moto-frete – somente poderão circular nas vias com autorização emitida pelo órgão ou entidade executivo de trânsito dos Municípios.
- ( ) C) As motocicletas e motonetas destinadas ao transporte remunerado de mercadorias – moto-frete – deverão instalar aparador de linha antena corta-pipas, nos termos de regulamentação do Contran e submeter-se a inspeção semestral para verificação dos equipamentos obrigatórios e de segurança.
- ( ) D) É permitido o transporte de combustíveis, gás de cozinha e de galões contendo água mineral, pelas moto-frete, desde que com o auxílio de side-car.

**74** - De acordo com o CTB, o condutor:

- ( ) A) habilitado na categoria C está autorizado a conduzir trailer.
- ( ) B) de combinação de veículos, qualquer que seja esta combinação, deverá estar habilitado na categoria E.
- ( ) C) para habilitar-se na categoria C, deverá estar habilitado no mínimo há um ano na categoria B e não ter cometido nenhuma infração grave ou gravíssima, ou ser reincidente em infrações médias, durante os últimos doze meses.
- ( ) D) para habilitar-se nas categorias D e E, deverá estar habilitado no mínimo há dois anos na categoria B, ou no mínimo há um ano na categoria C.

**75** - São infrações gravíssimas, de acordo com o CTB:

- ( ) A) deixar o condutor ou passageiro de usar o cinto de segurança e transportar crianças em veículo automotor sem observância das normas de segurança.
- ( ) B) conduzir o veículo com dispositivo anti-radar e deixar de parar o veículo antes de transpor linha férrea.
- ( ) C) usar o veículo para arremessar, sobre os pedestres ou veículos, água ou detritos e disputar corrida por espírito de emulação.
- ( ) D) ultrapassar outro veículo pelo acostamento e deixar o condutor de prestar socorro à vítima de acidente de trânsito quando solicitado pela autoridade e seus agentes.

**76** - A penalidade de suspensão do direito de dirigir será aplicada, nos casos previstos no CTB, pelo prazo mínimo de \_\_\_(1)\_\_\_ até o máximo de \_\_\_(2)\_\_\_ e, no caso de reincidência no período de doze meses, pelo prazo mínimo de \_\_\_(3)\_\_\_ até o máximo de \_\_\_(4)\_\_\_ anos, segundo critérios estabelecidos pelo CONTRAN. Marque a opção que completa corretamente as lacunas:

- ( ) A) (1) um mês – (2) um ano – (3) seis meses – (4) dois.
- ( ) B) (1) três meses – (2) dois anos – (3) um ano – (4) cinco.
- ( ) C) (1) dois meses – (2) um ano – (3) seis meses – (4) três.
- ( ) D) (1) três meses – (2) três anos – (3) três anos – (4) cinco.

**77** - De acordo com o disposto no CTB, marque a opção correta:

- ( ) A) A assinatura do infrator no auto de infração vale como notificação do cometimento da infração e desistência da interposição de recurso.
- ( ) B) O auto de infração será arquivado e seu registro julgado insubsistente se, no prazo máximo de quinze dias, não for expedida a notificação da autuação.
- ( ) C) Da notificação de imposição de penalidade deverá constar a data do término do prazo para apresentação de recurso pelo responsável pela infração, que não será inferior a sessenta dias contados da data da notificação da penalidade.
- ( ) D) Os veículos apreendidos ou removidos a qualquer título e os animais não reclamados por seus proprietários, dentro do prazo de noventa dias, serão levados à hasta pública, deduzindo-se, do valor arrecadado, o montante da dívida relativa a multas, tributos e encargos legais, e o restante, se houver, depositado à conta do ex-proprietário, na forma da lei.

**78** - No âmbito do direito administrativo é correto afirmar:

- ( ) A) Os atos administrativos não podem ser delegados mas podem ser avocados.
- ( ) B) A administração pública pode revogar seus próprios atos por motivos de conveniência e oportunidade.
- ( ) C) É vedada a concessão de serviços públicos a particulares.
- ( ) D) Os atos administrativos somente podem ser executados através de ordem judicial.

**79** - Analise as alternativas a seguir sobre a lei complementar municipal nº 130/2001 (Estatuto dos Servidores Públicos do Município) e marque a opção correta:

- ( ) A) É permitida a prestação de serviços gratuitos, salvo os casos previstos em lei.
- ( ) B) Ao servidor é proibido participar de gerência ou administração de empresa privada, de sociedade civil, ou exercer o comércio, exceto na qualidade de acionista, cotista ou comanditário.
- ( ) C) A posse em cargo público dependerá de prévia inspeção médica oficial, inclusive no caso de posse dos agentes políticos, quando a inspeção médica será obrigatória.
- ( ) D) O servidor em estágio probatório não poderá exercer cargos de provimento em comissão ou funções de confiança.

**80** - Marque a alternativa em que todos os itens contemplam corretamente as atividades de competência da Guarda Municipal, segundo dispõe a lei complementar municipal nº 344/2009 de Chapecó/SC:

- ( ) A) proteger o patrimônio, os bens, os serviços e as instalações públicas municipais e o meio ambiente.
- ( ) B) atender a população em eventos danosos e exercer com exclusividade o poder de polícia administrativa do município.
- ( ) C) atuar na fiscalização do trânsito no âmbito municipal e exercer o serviço de policiamento ostensivo.
- ( ) D) fiscalizar o uso de vias urbanas e estradas municipais e efetuar serviços de investigação criminal.