

Processo Seletivo

Público

Código: 395

CARGO**PROFESSOR 6ª A 9ª SÉRIE E EJA: EDUCAÇÃO FÍSICA**CARGO**PROFESSOR EDUCAÇÃO INFANTIL****Escreva seu nome e número de inscrição de forma legível nos locais indicados:**

Nome do(a) Candidato(a)

Nº de inscrição

Este caderno de questões está assim constituído:

PROVAS	ÁREAS DE CONHECIMENTO	Nº QUESTÕES
CONHECIMENTOS BÁSICOS	Língua Portuguesa	10
	Matemática	10
	Conhecimentos Gerais	10
CONHECIMENTOS ESPECÍFICOS		40

INSTRUÇÕES:

- Confira devidamente o material (CARTÃO DE RESPOSTAS e CADERNO DE QUESTÕES); se houver falha, solicite a presença do fiscal.
- Confira seus dados no CARTÃO DE RESPOSTAS: NOME, Nº da INSCRIÇÃO e CARGO. ASSINE no espaço indicado na frente do cartão.
- O CARTÃO DE RESPOSTAS deverá ser preenchido a caneta esferográfica, azul ou preta, ponta grossa, sem rasuras e apenas uma **ÚNICA** opção poderá ser assinalada. Não amasse nem dobre o CARTÃO DE RESPOSTAS; evite usar borracha.
- É vedada a substituição do CARTÃO DE RESPOSTAS decorrente de erro cometido por candidato. **NÃO RASURE!**
- Se o CARTÃO DE RESPOSTAS contiver maior número de alternativas e questões, preencha apenas as correspondentes à sua prova, as demais ficam em branco.
- Durante a prova, não é permitida a comunicação entre candidatos nem a utilização de máquina calculadora e/ou similares, livros, anotações, régua de cálculo, impressos ou qualquer outro material de consulta.
- O tempo de duração da prova será de até 4 horas.
- Ao final dos trabalhos **DEVOLVA** ao fiscal da sala, juntamente com o CARTÃO DE RESPOSTAS devidamente preenchido e assinado, o CADERNO DE QUESTÕES, tendo em vista a obrigatoriedade de arquivo no Município.
- O inteiro teor das provas e os gabaritos preliminares serão divulgados nos endereços eletrônicos www.chapeco.sc.gov.br e www.objetivas.com.br, a partir das 14h do dia 17 de novembro de 2014.
- Os três últimos candidatos de cada sala de prova deverão permanecer no recinto, a fim de acompanhar os fiscais até a coordenação para o lacre dos envelopes, quando, então, poderão retirar-se do local simultaneamente, após concluído o procedimento.
- A parte destacável no final desta capa, que serve para copiar as suas respostas, somente poderá ser destacada no ato da entrega do material na mesa do fiscal.
- Direitos autorais reservados à Objetiva Concursos Ltda. Proibida a reprodução, ainda que parcial, sem autorização prévia.

✂..... (dobre e destaque esta parte para copiar suas respostas)

01 02 03 04 05 06 07 08 09 10 11 12 13 14
15 16 17 18 19 20 21 22 23 24 25 26 27 28
29 30 31 32 33 34 35 36 37 38 39 40 41 42
43 44 45 46 47 48 49 50 51 52 53 54 55 56
57 58 59 60 61 62 63 64 65 66 67 68 69 70

LÍNGUA PORTUGUESA

Uma das grandes lástimas do ensino é o caráter enciclopédico e decorativo que ele pode assumir. E também o desgosto e o desânimo que isso pode causar, afastando por longo tempo, talvez por uma vida toda, a pessoa da busca e do mundo fascinante que leva ao conhecimento.

Lembre-se do seu tempo de escola. Certamente você tem um caso para contar. Provavelmente, foi obrigado ___ decorar, em geografia, os afluentes da margem direita e esquerda do rio Amazonas ou, em língua portuguesa, as preposições essenciais. Em última instância, caso não tenha caído em nenhuma dessas ciladas, não deve ter se livrado da “sagrada tabuada”, que precisava “estar na ponta da língua”.

No meu caso, por exemplo, fui vítima de todas elas. Sei de cor os afluentes da margem direita (Javari, Jutai, Juruá, Madeira...) e esquerda (Negro, Jari, Paru...) do rio Amazonas. Sei também as preposições essenciais (a, ante, até, após, com, contra...) e a tabuada completa, inclusive a do nove. Mas nenhuma dessas “decorações” me incomoda tanto como ter sido induzida ___ memorizar a tabela periódica.

Isso mesmo! Você pode não acreditar, mas fui levada ___ isso por um professor de química do Ensino Médio que achava fundamental ter “na ponta da língua” a sequência dos grupos (metais alcalinos; alcalinos terrosos, de transição...), bem como memorizar a posição e os respectivos números atômicos de cada elemento. “A tabela periódica – dizia ele – é a tabuada da química e tem que estar decoradinha.”

<http://cienciahoje.uol.com.br/...> - adaptado.

1) Assinalar a alternativa que preenche as lacunas do texto CORRETAMENTE:

- a) à - à - à
- b) a - a - à
- c) à - à - a
- d) a - a - a

2) Em relação ao texto, assinalar a alternativa CORRETA:

- a) Na visão da autora do texto, decorar conteúdos pode afastar a pessoa da busca por conhecimento por longo tempo ou para toda a vida.
- b) A autora do texto concorda com a atitude dos professores que optam por ensinar seus alunos por meio da decoreba de tabuada, por exemplo.
- c) Ter de decorar a tabela periódica incomodou a autora do texto profundamente, mas a tabuada foi o conteúdo que ela menos gostou e o que mais a incomodou.
- d) Segundo o professor de química, decorar a tabuada da matemática ajuda na compreensão da tabela periódica.

3) No período “Mas nenhuma dessas “decorações” me incomoda...”, o termo sublinhado pode ser substituído, sem alterar o sentido, por:

- a) Portanto.
- b) Entretanto.
- c) Porque.
- d) Consequentemente.

4) Assinalar a alternativa em que a colocação pronominal está INCORRETA:

- a) Com o modelo *in-vessel*, a produção de adubo se dá em 15 dias, enquanto com o modo tradicional leva mais de 90 dias.
- b) Ao passar pelo processo, resíduos de frango que seriam descartados transformam-se em combustível e adubo.
- c) A técnica é diferente da compostagem tradicional, na qual os resíduos orgânicos são colocados diretamente no solo e cobertos com terra para que transformem-se em adubo.
- d) O sistema de granja sustentável aproveita-se de elementos simples, como a água da chuva, para gerar combustível.

5) Em relação aos vícios de linguagem, assinalar a alternativa que NÃO apresenta pleonismo:

- a) A monocultura exclusiva prejudica o solo.
- b) Vi a cena chocante com meus próprios olhos.
- c) Entre para dentro já.
- d) Qualquer ruído é faca em meus ouvidos.

6) Assinalar a alternativa INCORRETA quanto à concordância:

- a) A tecnologia impressiona, apesar de gerar dúvidas quanto ao modo de uso desse tipo de tela em um *smartphone*, já que seria necessário criar um sistema para prevenir toques acidentais.
- b) De acordo com alguns consumidores que já receberam a atualização, além das melhorias na capacidade de resposta da interface do aparelho, agora a bateria do G3 está com autonomia muito melhor.
- c) Após reclamações de consumidores, o LG G3 recebeu uma atualização que promete melhorias na capacidade de resposta do sistema, ficando assim com uma navegação bem mais rápida.
- d) O mercado de destino das telas com bordas superfinas serão, ao menos por enquanto, a China. Os consumidores do país costumam valorizar esse tipo de tecnologia, e não é raro que empresas testem novos produtos por lá antes de disponibilizarem no resto do mundo.

7) Em relação à regência, assinalar a alternativa INCORRETA:

- a) A quantidade cresceu devido ao aumento no número de queixas relacionadas a contratos do Fundo de Financiamento Estudantil.
- b) A quantidade de alunos que usam o financiamento do governo federal cresceu neste ano, o que implica mais dúvidas.
- c) O objetivo é incentivar líderes capazes em ajudar o país a avançar na velocidade necessária.
- d) Em quase metade dos casos, o principal problema refere-se a problemas com cobrança.

8) Quanto às vozes verbais, marcar C para as afirmativas Certas, E para as Erradas e, após, assinalar a alternativa que apresenta a sequência CORRETA:

- () A frase “Os orientandos foram premiados pelo orientador devido às pesquisas sobre nicotina, racismo e música.” está na voz passiva.
- () A frase “Os temas das pesquisas são escolhidos pelos próprios alunos.” está na voz ativa.
- () A frase “O secretário-executivo analisou também as cotas nos concursos públicos.” está na voz ativa.

- a) C - C - E.
- b) C - E - C.
- c) E - C - E.
- d) E - E - C.

9) Assinalar a alternativa em que o sublinhado indica ideia de oposição:

- a) Além disso, a situação social dos alunos necessita também de ser analisada.
- b) Ademais, o período de escolarização obrigatória duplicou, passando de quatro para oito anos.
- c) A pesada herança da escravidão tem consequências de longo prazo para a evolução do sistema educacional porque cria problemas específicos para a extensão do acesso à escola.
- d) O ensino nas escolas do Brasil precisa melhorar para poder alcançar a tão almejada eficiência e qualidade. No entanto, essa melhoria não está restrita apenas às condições materiais e estruturais das escolas.

10) Em relação à ortografia, analisar os itens abaixo:

- I - Sazonalidade - existencialismo.
- II - Padronização - standardização.

- a) Os itens I e II estão corretos.
- b) Os itens I e II estão incorretos.
- c) Somente o item I está correto.
- d) Somente o item II está correto.

MATEMÁTICA

11) Em relação às unidades de medidas, analisar os itens abaixo:

- I - Para encher completamente 1.000 baldes com capacidade máxima de 20 litros cada, é necessário, ao todo, 20m³ de água.
- II - Distribuindo-se 3kg de determinada substância em 100 pacotes com a mesma quantidade, cada pacote conterà 10g.
- III - Ao cortar uma fita de 5m de comprimento em 25 pedaços de mesmo tamanho, cada pedaço terá 20cm de comprimento.

Estão CORRETOS:

- a) Somente os itens I e II.
- b) Somente os itens I e III.
- c) Somente os itens II e III.
- d) Todos os itens.

12) Um grupo de 20 professores corrige 420 trabalhos em 6 horas. Considerando-se a mesma proporção, em quantas horas 50 professores corrigirão 700 trabalhos?

- a) 3
- b) 1
- c) 4
- d) 2

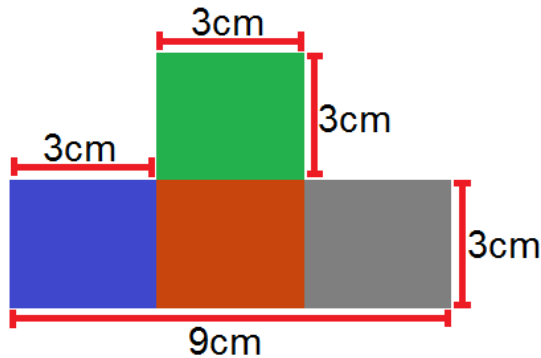
13) Dois professores de história, Fábio e André, trabalham na mesma escola e possuem cargas horárias diferentes. Sabendo-se que Fábio trabalha 20 horas semanais e André 16 horas, qual a razão entre a carga horária de André e a carga horária de Fábio?

- a) 0,6
- b) 1,5
- c) 1,25
- d) 0,8

14) Na grade curricular de determinado curso superior, constam 36 disciplinas para que o aluno conclua a formação. Sabendo-se que cada disciplina possui a mesma carga horária e que Cláudio já cursou 75% do curso, sem repetir nenhuma disciplina, quantas disciplinas faltam para que Cláudio conclua o curso?

- a) 12
- b) 6
- c) 9
- d) 27

15) Qual a área da figura?



- a) 36cm^2
- b) 21cm^2
- c) 30cm^2
- d) 26cm^2

16) O valor de um pedágio foi dividido entre dois amigos, Daniel e Danilo. Sabendo-se que Daniel pagou R\$ 8,00, o que correspondia a $\frac{2}{3}$ do valor, e que Danilo pagou o restante do valor, qual foi o valor pago por Danilo?

- a) R\$ 6,00
- b) R\$ 12,00
- c) R\$ 10,00
- d) R\$ 4,00

17) Um candidato de determinado concurso público acertou 26 questões, das 40 questões da prova. Quantos por cento da prova esse candidato acertou?

- a) 65
- b) 60
- c) 70
- d) 75

18) Em relação à idade de dois irmãos, sabe-se que a idade de Lucas está para a idade de Laura, assim como 13 está para 12. Sabendo-se que a soma das duas idades é igual a 50, é CORRETO afirmar que:

- a) Lucas tem 28 anos.
- b) Laura tem 22 anos.
- c) Laura tem 24 anos.
- d) Lucas tem 30 anos.

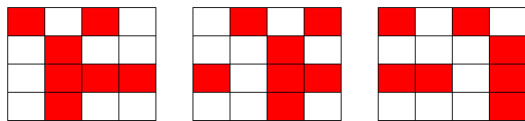
19) Três amigos (Carlos, Pedro e Manoel) participaram de um feirão de automóveis e cada um comprou um carro de ano e modelo diferentes. Sabendo-se que compraram uma Hilux, um Camaro e um Veloster dos anos de 2014, 2013 e 2012, não necessariamente nessa ordem, pode-se afirmar que:

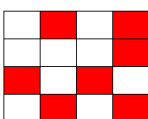
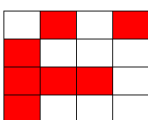
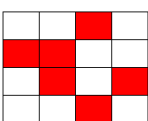
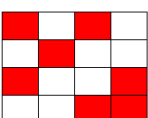
- Carlos não comprou um Veloster.
- O carro do ano de 2012 é um Camaro.
- Pedro comprou uma Hilux e não é do ano de 2014.
- O carro que Manoel comprou é do ano de 2014.

Com base nessas informações, assinalar a alternativa CORRETA:

- a) Carlos comprou um Veloster e Manoel um Camaro.
- b) Os anos dos carros de Carlos, Pedro e Manoel são, respectivamente, 2014, 2012 e 2013.
- c) O carro de Carlos é um Camaro do ano de 2014.
- d) Manoel comprou um Veloster.

20) Assinalar a alternativa que apresenta a próxima imagem da sequência lógica abaixo:



- a) 
- b) 
- c) 
- d) 

Atenção! Em todas as questões de legislação desta prova, considerar as leis e suas alterações até a data do início das inscrições deste processo.

CONHECIMENTOS GERAIS

21) De acordo com a Constituição Federal, com relação aos direitos e às garantias fundamentais, é CORRETO afirmar que:

- a) Ninguém será considerado culpado depois do trânsito em julgado de sentença penal condenatória.
- b) O civilmente identificado será submetido a identificação criminal, salvo nas hipóteses previstas em lei.
- c) Será admitida ação privada nos crimes de ação pública, se esta não for intentada no prazo legal.
- d) A lei somente poderá permitir a publicidade dos atos processuais quando esses atos ferirem a defesa da intimidade ou o interesse social o exigirem.

22) Sobre o direito à educação, conforme a Constituição Federal, assinalar a alternativa INCORRETA:

- a) O Ensino Fundamental regular será ministrado obrigatoriamente em Língua Portuguesa, inclusive em relação às comunidades indígenas.
- b) O ensino religioso, de matrícula facultativa, constituirá disciplina dos horários normais das escolas públicas de Ensino Fundamental.
- c) Os Municípios atuarão prioritariamente no Ensino Fundamental e na Educação Infantil.
- d) Serão fixados conteúdos mínimos para o Ensino Fundamental, de maneira a assegurar a formação básica comum e o respeito aos valores culturais e artísticos, nacionais e regionais.

23) De acordo com a Lei nº 8.069/90 - ECA, é CORRETO afirmar que:

- a) É proibido qualquer trabalho a menores de 14 anos de idade, mesmo na condição de aprendiz.
- b) O Poder Público, através do órgão competente, regulará as diversões e espetáculos públicos, informando sobre a natureza deles, as faixas etárias a que não se recomendem, locais e horários em que sua apresentação se mostre inadequada.
- c) Toda criança ou adolescente terá acesso às diversões e espetáculos públicos classificados como inadequados à sua faixa etária.
- d) É permitida a venda à criança ou ao adolescente de armas, munições e explosivos.

24) Segundo a Lei nº 9.394/96 - LDB, os sistemas municipais de ensino compreendem:

- I - As instituições do Ensino Fundamental, Médio e de Educação Infantil mantidas pelo Poder Público municipal.
- II - As instituições de Educação Infantil criadas e mantidas pela iniciativa privada.
- III - Os órgãos municipais de educação.

Está(ão) CORRETO(S):

- a) Somente o item I.
- b) Somente os itens II e III.
- c) Somente os itens I e III.
- d) Todos os itens.

25) Em conformidade com a Lei nº 9.394/96 - LDB, é(são) princípio(s) pelo(s) qual(is) o ensino será ministrado:

- I - Igualdade de condições para o acesso e permanência na escola.
- II - Respeito à liberdade e desprezo à tolerância.
- III - Valorização do profissional da educação escolar.

Está(ão) CORRETO(S):

- a) Somente o item I.
- b) Somente os itens II e III.
- c) Somente os itens I e III.
- d) Todos os itens.

26) Considerando-se as disposições da Lei Orgânica deste Município, analisar os itens abaixo:

- I - Os Secretários Municipais são solidariamente responsáveis com o Prefeito Municipal pelos atos que assinarem, ordenarem ou praticarem.
- II - Nenhum órgão da Administração Pública Municipal Indireta poderá ser vinculado a uma Secretaria Municipal.
- III - A educação prestada pelo Município atenderá a formação tradicional, dominante, técnica e científica da população, na forma do Sistema Municipal de Ensino.
- IV - O Sistema Municipal de Ensino compreende as instituições do Ensino Fundamental e de Educação Infantil mantidas pelo Poder Público Municipal, as instituições de Educação Infantil criadas e mantidas pela iniciativa privada, a Secretaria Municipal de Educação e o Conselho Municipal de Educação.

Estão CORRETOS:

- a) Somente os itens I e IV.
- b) Somente os itens I e III.
- c) Somente os itens II, III e IV.
- d) Todos os itens.

Atualidades

27) Em 2014 o Brasil perdeu uma figura ilustre no cenário cultural, um dos grandes nomes da cultura nordestina. Exaltado principalmente pela atuação no teatro brasileiro, o escritor, dramaturgo e poeta fundou o Movimento Armorial nos anos 70, que tinha como objetivo utilizar a cultura popular para formar uma arte erudita. Além de teatrólogo, foi professor, romancista e advogado. Dentre suas obras, destaca-se "O Auto da Compadecida", que virou filme e série de TV. O trecho anterior faz referência a qual personalidade?

- a) Lupicínio Rodrigues.
- b) João Ubaldo Ribeiro.
- c) Ariano Suassuna.
- d) Rubem Alves.

28) Após o evento da Copa do Mundo (2014), ocorreu em Fortaleza a 6ª Cúpula do BRICS, onde foi anunciada a criação do Novo Banco de Desenvolvimento (NBD) para o BRICS. É CORRETO afirmar que, além do Brasil, os países que compõem esse grupo são:

- a) Rússia, Índia, Coreia do Norte e Suécia.
- b) Ruanda, Iraque, China e Singapura.
- c) Romênia, Iraque, Coreia do Sul e África do Sul.
- d) Rússia, Índia, China e África do Sul.

29) A epidemia desta doença no oeste da África é a pior de que se tem registro na história. Mais de mil pessoas morreram na região por causa da doença, levando autoridades de saúde da Guiné, Libéria e Serra Leoa a correr contra o tempo para tentar controlar o vírus.

<http://www.bbc.co.uk/portuguese/noticias/2014> - adaptado.

A notícia acima se refere ao surto de qual doença?

- a) Cólera.
- b) Ebola.
- c) Aids.
- d) H1N1.

30) "Em 2014 comemoram-se os 20 anos da moeda que trouxe novo ciclo de desenvolvimento econômico para o Brasil."

<http://vestibular.uol.com.br/> - adaptado.

A manchete acima faz referência:

- a) À quitação da dívida externa brasileira.
- b) Aos 20 anos do Plano Real.
- c) À recessão econômica na América Latina.
- d) Aos 20 anos do fim do Fundo Monetário Internacional (FMI).

CONHECIMENTOS ESPECÍFICOS - Educação Física

31) Segundo FREIRE, analisar a sentença abaixo:

O professor que pensa certo deixa transparecer aos educandos que uma das bonitezas de nossa maneira de estar no mundo e com o mundo, como seres históricos, é a capacidade de, intervindo no mundo, conhecer o mundo (1ª parte). Pensar certo, do ponto de vista do professor, tanto implica o respeito ao senso comum no processo de sua necessária superação quanto o respeito e o estímulo à capacidade criadora do educando (2ª parte).

A sentença está:

- a) Totalmente incorreta.
- b) Correta somente em sua 2ª parte.
- c) Correta somente em sua 1ª parte.
- d) Totalmente correta.

32) De acordo com LUCKESI, em relação à avaliação, analisar os itens abaixo:

- I - A avaliação da aprendizagem ganhou um espaço tão amplo nos processos de ensino que a prática educativa escolar passou a ser direcionada por uma pedagogia do exame.
- II - O sistema de ensino não está interessado nos percentuais de aprovação e reprovação total dos educandos.

- a) Somente o item I está correto.
- b) Os itens I e II estão corretos.
- c) Somente o item II está correto.
- d) Os itens I e II estão incorretos.

33) Segundo PEDRO-SILVA, em relação aos limites, marcar C para as afirmativas Certas, E para as Erradas e, após, assinalar a alternativa que apresenta a sequência CORRETA:

- () Devem ser respeitados em nome da sobrevivência da sociedade.
- () Têm como finalidade preservar as crianças e os adolescentes das próprias tiranias dos adultos.

- a) C - E.
- b) E - C.
- c) C - C.
- d) E - E.

34) De acordo com MANTOAN, em relação à inclusão, é INCORRETO afirmar que:

- a) Os velhos paradigmas da modernidade estão sendo contestados e o conhecimento, matéria-prima da educação escolar, está passando por uma reinterpretação.
- b) A exclusão escolar manifesta-se das mais diversas e perversas maneiras, e quase sempre o que está em jogo é a ignorância do aluno diante dos padrões de cientificidade do saber escolar.
- c) O ensino curricular das escolas regulares, organizado em disciplinas, isola, separa os conhecimentos, em vez de reconhecer suas inter-relações.
- d) Os sistemas escolares estão montados a partir de um pensamento que acolhe a realidade, que não permite dividir os alunos em normais e deficientes.

35) Segundo DURANTE, sobre a alfabetização de adultos, analisar os itens abaixo:

- I - Quando não alfabetizados, desconhecem o sistema de escrita e sua função.
- II - Mesmo não tendo passado pelo processo normal de escolarização, têm uma concepção do sistema da escrita.
- III - Assim como as crianças, apresentam o critério de quantidade mínima e de variedade interna de letras.

Estão CORRETOS:

- a) Somente os itens II e III.
- b) Somente os itens I e II.
- c) Somente os itens I e III.
- d) Todos os itens.

36) Segundo MACHADO, em relação ao desenvolvimento infantil, analisar os itens abaixo:

- I - O período de desenvolvimento psicosssexual do ser humano vai dos três aos seis anos de idade e é chamado por Freud de estágio fálico.
- II - As identificações com os pais emergem à medida em que o complexo de Édipo é resolvido.
- III - A ligação inicial de toda criança, menino ou menina, é estabelecida com o pai.

Estão CORRETOS:

- a) Somente os itens II e III.
- b) Somente os itens I e II.
- c) Somente os itens I e III.
- d) Todos os itens.

37) Segundo Vygotsky in DURANTE, referente ao desenvolvimento humano, assinalar a alternativa que preenche as lacunas abaixo CORRETAMENTE:

Para Vygotsky, o(a) _____ das funções tipicamente humanas está pautado(a) no processo de interação do indivíduo com o mundo (com suas dimensões históricas e sociais) por sistemas simbólicos construídos _____.

- a) operação - aleatoriamente
- b) desempenho - gradativamente
- c) execução - progressivamente
- d) desenvolvimento - socialmente

38) De acordo com LUCKESI, o planejamento implica o estabelecimento de metas e recursos necessários à produção de resultados que sejam satisfatórios à vida pessoal e social. Com base nisso, pode-se considerar tais metas, EXCETO:

- a) Necessidade.
- b) Resultados.
- c) Insatisfação.
- d) Ação planejada.

39) Segundo PERRENOUD, as práticas pedagógicas mudam lentamente e, ao longo das décadas, elas passaram a:

- I - Recorrer mais aos métodos ativos e aos princípios da escola nova, às pedagogias alicerçadas no projeto, no contrato e na cooperação.
- II - Manifestar maior respeito pelo aluno, por sua lógica, seus ritmos, suas necessidades e seus direitos.
- III - Conceder menos espaço às tarefas abertas e ao trabalho por situações de aprendizagem.

Estão CORRETOS:

- a) Somente os itens II e III.
- b) Somente os itens I e II.
- c) Somente os itens I e III.
- d) Todos os itens.

40) De acordo com os Parâmetros Curriculares Nacionais: Educação Física, analisar a sentença abaixo:

A Educação Física escolar não pode reproduzir a miséria da falta de opções e perspectivas culturais, nem ser cúmplice de um processo de empobrecimento e descaracterização cultural. Ou seja, o mesmo espaço-tempo que viabiliza o futebol e a “queimada” deve viabilizar o vôlei, o tênis com raquetes de madeira, os jogos pré-desportivos, a dança, a ginástica, as atividades aeróbicas, o relaxamento, o atletismo, entre inúmeros outros exemplos (1ª parte). A Educação Física e a escola de maneira geral não precisam confinar-se em seus muros. A escola pode buscar na comunidade pessoas e instituições que dominem conhecimentos relativos a práticas da cultura corporal e trazê-las para o seu interior (2ª parte).

A sentença está:

- a) Totalmente correta.
- b) Correta somente em sua 1ª parte.
- c) Totalmente incorreta.
- d) Correta somente em sua 2ª parte.

41) De acordo com KUNZ, numerar a 2ª coluna de acordo com a 1ª e, após, assinalar a alternativa que apresenta a sequência CORRETA:

- (1) Concepção biológico-funcional.
- (2) Concepção formativo-recreativa.
- (3) Concepção técnico-esportiva.
- (4) Concepção crítico-emancipatória.

- () É a única competência objetivada na outras concepções e é por intermédio dessa competência que se valoriza, também, a condição física, o esporte, as atividades de lazer etc.
- () Concepção em que a Educação Física tenta cumprir a função de contribuir na formação da personalidade e de habilidades motoras gerais dos alunos, para uma melhor adaptação às exigências sociais.
- () É, sem dúvida, a concepção hegemônica, atualmente, no contexto escolar. O interesse dos profissionais em desenvolver essa concepção é claramente orientado no alto rendimento.
- () O interesse dos profissionais que adotam essa concepção é a transmissão da quantidade e da qualidade de exercícios físicos em um nível ótimo de acordo com a idade e o sexo, com o sentido de promover a saúde dos atingidos.

- a) 2 - 4 - 3 - 1.
- b) 4 - 2 - 3 - 1.
- c) 1 - 2 - 4 - 3.
- d) 4 - 2 - 1 - 3.

42) A sociedade, bem como a vida, está cada vez mais sendo orientada por conhecimentos oriundos da evolução científica e tecnológica. E essa evolução pode ser melhor percebida, justamente, sobre uma área que tem maior poder de alcance e de influência sobre a maioria da pessoas, que são os meios de comunicação em massa. Com relação ao interesse de Educação Física na análise do movimento nos esportes associados a esses avanços, marcar C para as afirmativas Certas, E para as Erradas e, após, assinalar a alternativa que apresenta a sequência CORRETA:

- () A evolução do esporte contribuiu para que o movimento no esporte se tornasse cada vez mais natural, tendo os praticantes todos os subsídios necessários para que possam adaptar seus movimentos, estando livre de movimentos estereotipados e de uma forma mecânica rígida.
- () O interesse da ciência sobre os movimentos praticados no esporte é o aperfeiçoamento do gesto com a finalidade de melhorar cada vez mais o rendimento no esporte, ou seja, apenas o sentido funcional do mesmo.
- () Os movimentos no esporte exigem uma participação quase sempre integral do corpo do praticante, o que necessita de um constante aperfeiçoamento da condição física, sendo que a transferência dessa melhoria da condição física para a promoção da saúde e outros benefícios do exercício físico nem sempre são facilmente conjugados.
- () Atualmente, existem diferenças na forma de realização dos movimentos caracterizadas pelas diferentes modalidades esportivas, embora os movimentos continuem sendo rigidamente pré-determinados e regulamentados para cada modalidade.

- a) C - C - E - E.
- b) E - C - C - C.
- c) E - E - E - C.
- d) C - C - C - E.

43) Para a realização da avaliação do nível de aprendizagem de habilidades motoras, deve-se fazer inferências a partir da observação do desempenho durante práticas e testes. Considerando-se a avaliação das habilidades motoras, numerar a 2ª coluna de acordo com a 1ª e, após, assinalar a alternativa que apresenta a sequência CORRETA:

- (1) Avaliação pela análise da prática do desempenho.
 - (2) Avaliação através de testes de retenção.
 - (3) Avaliação através de testes de transferência.
- () Trata-se do aspecto da adaptabilidade das mudanças do desempenho relacionadas à aprendizagem. São testes envolvendo alguma situação nova, de modo que a pessoa precisa adaptar-se a habilidade que esteve praticando às características dessa nova situação.
 - () Essa avaliação analisa a característica de persistência do desempenho aperfeiçoado devido à prática da habilidade. Exemplo clássico dessa avaliação são os testes que abrangem unidades da matéria estudadas, aplicados por professores em escolas.
 - () Avaliação baseada na observação do professor durante a prática da habilidade pelo aluno. Normalmente o desempenho é ilustrado graficamente através de uma curva de desempenho.
- a) 1 - 2 - 3.
 - b) 1 - 3 - 2.
 - c) 2 - 1 - 3.
 - d) 2 - 3 - 1.

44) Conforme MARCELLINO, sobre o furto do lúdico na criança, é CORRETO afirmar que:

- a) A criança ainda não é parte ativa da sociedade, pois ainda não está ligada ao sistema econômico, sendo assim uma parcela inativa da população.
- b) De modo geral, o que se observa na sociedade, com relação à criança, é a impossibilidade de vivência do presente, em nome da preparação para um futuro que não lhe pertence.
- c) Ao negar a possibilidade de manifestação do lúdico para a criança, tem-se o objetivo de que ela construa os próprios valores ainda na primeira idade.
- d) A consideração setorizada do tempo não pode ser apontada como uma das causas do furto ao lúdico das crianças, visto que estas não separam seu tempo de lazer e de não lazer.

45) Com relação à interação do corpo com o meio ambiente, numerar a 2ª coluna de acordo com a 1ª e, após, assinalar a alternativa que apresenta a sequência CORRETA:

- (1) Coordenação dinâmica geral.
 - (2) Coordenação dinâmica específica.
 - (3) Organização espacial.
 - (4) Organização temporal.
- () Rastejar, trepar e deslizar.
() Pode ser dividida em dois estágios: acesso proprioceptivo (até os sete anos) e acesso representativo (após os sete anos).
() É própria daquelas tarefas nas quais a criança atua sobre os objetos.
() Pode-se intuir que a criança fundamenta na percepção da ordem e na percepção da duração.
- a) 1 - 2 - 3 - 4.
b) 2 - 3 - 4 - 1.
c) 1 - 3 - 2 - 4.
d) 2 - 4 - 3 - 1.

46) Conforme PIRES, é CORRETO afirmar que o telespetáculo é:

- a) Uma realidade autônoma, tecnicamente reconstruída no tempo/espaço virtuais, decorridos entre sua captação, nas próprias instalações esportivas, e a sua recepção através dos aparelhos domésticos de televisão.
- b) A dimensão criada pelo espectador esportivo nas instalações em que a prática esportiva ocorre, sendo o telespectador um agente secundário nesse processo de transformação do esporte.
- c) Uma imaginação abstrata, em que o apaixonado por esporte cria uma atmosfera em cima dos eventos esportivos, deixando-se levar pela massificação do esporte e sendo submisso ao *marketing* que envolve todo esse processo.
- d) O processo inverso, ou seja, a maneira como o esporte é sentido e vivido pelos torcedores causa reflexo nos atletas, influenciando diretamente nos aspectos esportivos.

47) Segundo ASSIS, analisar a sentença abaixo:

O esporte praticado na escola, ou organizado a partir do vínculo escolar, é regido pelo esporte de rendimento como modelo (1ª parte). No tocante aos pontos de inter-relação, o esporte praticado na escola assume o mesmo lugar do esporte como atividade de lazer, ou seja, também é celeiro de atletas, também forma os consumidores do esporte e compartilha das instalações que servem ao espetáculo esportivo (2ª parte).

A sentença está:

- a) Correta somente em sua 1ª parte.
- b) Correta somente em sua 2ª parte.
- c) Totalmente incorreta.
- d) Totalmente correta.

48) Sobre alguns tipos de lesões comuns nas aulas de Educação Física, numerar a 2ª coluna de acordo com a 1ª e, após, assinalar a alternativa que apresenta a sequência CORRETA:

- (1) Entorse.
 - (2) Distensão.
 - (3) Luxação.
- () Deslocamento da extremidade de um osso ao nível de sua articulação.
() Lesão provocada no músculo por movimentos bruscos e violentos.
() Separação momentânea das superfícies ósseas ao nível da articulação.
- a) 1 - 2 - 3.
b) 3 - 2 - 1.
c) 3 - 1 - 2.
d) 2 - 3 - 1.

49) Assinalar a alternativa que preenche as lacunas abaixo CORRETAMENTE:

Quando alguém realiza, sem necessidade, um gesto, um ato já conhecido, deve estar fazendo-o por prazer e, se essa ação estiver circunstanciada em um ato corporal, isso se chama de jogo _____. Já no jogo _____ pode-se fazer de conta aquilo que na realidade não foi possível.

- a) de regras - de exercício
- b) simbólico - de construção
- c) de exercício - simbólico
- d) de construção - de regras

50) Aulas de Educação Física junto à natureza é uma possibilidade que pode ser usada pelo professor como estratégia para diversificar conteúdos, agregar valor cultural, entre outros benefícios aos seus planos de ensino e de aula. Sobre esse tema, analisar os itens abaixo:

- I - Para enriquecer o passeio, o ideal é que nem mesmo o professor conheça previamente o espaço onde a aula será realizada, assim as possibilidades de descobertas e aventuras estarão aumentadas durante a aula.
- II - Durante as atividades, seria interessante que o professor exercesse um papel um tanto quanto passivo, deixando que os próprios alunos desenvolvam a aula, aproveitando o ambiente diferenciado.
- III - De volta à classe, é importante que a saída não fique relegada. As experiências vividas podem ser tema de diversos trabalhos.

Está(ão) CORRETO(S):

- a) Somente os itens I e II.
- b) Somente os itens I e III.
- c) Somente o item I.
- d) Somente o item III.

**CONHECIMENTOS ESPECÍFICOS - Professor
Educação Infantil**

51) Em conformidade com o Referencial Curricular Nacional para a Educação Infantil, quanto às possibilidades de organização do tempo na disciplina de Artes, numerar a 2ª coluna de acordo com a 1ª e, após, assinalar a alternativa que apresenta a sequência CORRETA:

- (1) Atividades permanentes.
- (2) Situações didáticas.
- (3) Projetos.

- () São formas de trabalho que envolvem diferentes conteúdos e que se organizam em torno de um produto final cuja escolha e elaboração são compartilhadas com as crianças.
- () Acontecem com regularidade diária ou semanal, na rotina das crianças.
- () Constitui-se em uma série planejada e orientada de tarefas, com objetivo de promover uma aprendizagem específica e definida.

- a) 1 - 3 - 2.
- b) 3 - 2 - 1.
- c) 2 - 1 - 3.
- d) 3 - 1 - 2.

52) Em conformidade com o Referencial Curricular Nacional para a Educação Infantil, em relação à avaliação formativa, assinalar a alternativa CORRETA:

- a) É um importante instrumento para que o professor possa obter dados sobre o processo de aprendizagem de cada criança, reorientar sua prática e elaborar seu planejamento, propondo situações capazes de gerar novos avanços na aprendizagem das crianças.
- b) Ocorre de forma assistemática e ao final do processo de aprendizagem. Nesse processo, não há a necessidade de fazer um levantamento inicial sobre o conhecimento prévio que as crianças possuem sobre a escrita, a leitura e a linguagem oral.
- c) A avaliação escrita e objetiva é o principal instrumento para que o professor possa avaliar o processo de construção da linguagem pelas crianças.
- d) Envolve uma perspectiva seletiva e propedêutica, em busca de resultados, em conformidade com certos níveis predeterminados.

53) Em conformidade com o Referencial Curricular Nacional para a Educação Infantil, para favorecer as práticas de escrita, algumas condições são consideradas essenciais. Com base nisso, analisar os itens abaixo:

- I - Reconhecer a capacidade do educador em ensinar as crianças a escrever e dar legitimidade às suas práticas pedagógicas de ensino da escrita.
- II - Propor atividades de escrita que façam sentido para as crianças, isto é, que elas saibam para que e para quem estão escrevendo, revestindo a escrita de seu caráter social.
- III - Propor atividades que permitam diversidade de estratégias nas formas de resolução encontradas pelas crianças.
- IV - Ajudar as crianças a desenvolverem a habilidade de retornar ao texto escrito – reler o que está ou foi escrito – para reelaborá-lo, ampliá-lo ou melhor compreendê-lo.

Estão CORRETOS:

- a) Somente os itens I e III.
- b) Somente os itens II e IV.
- c) Somente os itens I, II e III.
- d) Somente os itens II, III e IV.

54) Em relação às ideias apresentadas no manual Interação escola-família: subsídios para práticas escolares, analisar os itens abaixo:

- I - O ensino é uma atribuição prioritariamente da escola. Esta, porém, deve dividir essa responsabilidade com as famílias.
- II - É produtivo exigir que um aluno com dificuldades de aprendizagem cumpra o mesmo plano de trabalho escolar dos demais, exigindo assim, que as famílias mais vulneráveis adaptem-se ao sistema.
- III - O insucesso escolar deve suscitar a análise de causas dos problemas que interferiram na aprendizagem, avaliando o peso das condições escolares, familiares e individuais do aluno.

Estão CORRETOS:

- a) Somente os itens I e II.
- b) Somente os itens I e III.
- c) Somente os itens II e III.
- d) Todos os itens.

55) De acordo com Gardner in COLL, MARCHESI e PALACIOS, quanto à teoria das inteligências múltiplas, assinalar a alternativa CORRETA:

- a) Defende o uso de testes de inteligência e de QI, como uma forma eficaz de identificar as diferentes capacidades que fazem parte da inteligência humana.
- b) Faz uma crítica frontal à concepção unitária e unidimensional da inteligência.
- c) Propõe um conceito de inteligência relacionado a um conjunto específico de habilidades, de aptidões ou de capacidades de caráter essencialmente lógico-matemático.
- d) Parte de uma visão uniforme de currículo, de escola e de desenvolvimento humano.

56) De acordo com MINGUET, quanto ao desenvolvimento infantil, analisar a sentença abaixo:

Aprendizagem e desenvolvimento são dois processos que estão inter-relacionados desde o nascimento da criança (1ª parte). Existem suposições de que somente é indicativo da capacidade da criança aquilo que ela não pode fazer sozinha (2ª parte).

A sentença está:

- a) Totalmente incorreta.
- b) Correta somente em sua 2ª parte.
- c) Correta somente em sua 1ª parte.
- d) Totalmente correta.

57) De acordo com MACHADO, em relação às atitudes dos pais frente ao comportamento infantil, marcar C para as afirmativas Certas, E para as Erradas e, após, assinalar a alternativa que apresenta a sequência CORRETA:

- () O adulto deve respeitar as características da fase na qual a criança se encontra, adotando algumas atitudes para ajustar-se ao ritmo dela.
- () É correto censurar ou apoquentar a criança.
- () Palavras zangadas normalmente não favorecem um ritmo mais acelerado por parte da criança.

- a) C - C - E.
- b) E - C - C.
- c) E - C - E.
- d) C - E - E.

58) Segundo FONSECA, em relação ao papel dos pais na da integração de crianças deficientes, analisar os itens abaixo:

- I - Devem-se envolver os pais no processo de integração, visto que são os primeiros agentes da intervenção educacional.
- II - A falta de preparação ou de cultura pode servir de desculpas para não integrar os pais em um programa precoce de integração.
- III - Em nenhuma circunstância se pode desencorajar a participação dos pais.

Estão CORRETOS:

- a) Somente os itens II e III.
- b) Somente os itens I e II.
- c) Somente os itens I e III.
- d) Todos os itens.

59) Segundo JUNQUEIRA FILHO, os conteúdos-linguagens referem-se às linguagens:

- I - Sonoro-musical.
- II - Visual e verbal.
- III - Gestual e corporal.
- IV - Lógico-matemática.

Estão CORRETOS:

- a) Todos os itens.
- b) Somente os itens II e IV.
- c) Somente os itens I, III e IV.
- d) Somente os itens I, II e III.

60) Segundo MOYLES, as crianças, para brincar de modo efetivo precisam de, EXCETO:

- a) Companheiros de brincadeiras, pois as crianças até os seis anos de idade, não sabem brincar sozinhas.
- b) Estímulo e encorajamento para fazer e aprender mais.
- c) Atividades lúdicas espontâneas e planejadas.
- d) Experiências para ampliar e aprofundar aquilo que já sabem e podem fazer.

61) Segundo MOYLES, em relação ao brincar e suas implicações no desenvolvimento da criança, analisar os itens abaixo:

- I - É realizado por puro prazer e diversão, criando uma atitude alegre em relação à vida e à aprendizagem.
- II - Por meio dele, a criança consegue resolver conflitos internos e ansiedades.
- III - A estimulação, a variedade, o interesse, a concentração e a motivação são igualmente proporcionados pela situação lúdica.

Estão CORRETOS:

- a) Somente os itens II e III.
- b) Somente os itens I e II.
- c) Somente os itens I e III.
- d) Todos os itens.

62) Em conformidade com os documentos produzidos pelo Department of Education and Science in MOYLES, à qualidade do ensino e da aprendizagem depende de vários fatores relacionados ao(a):

- a) Oferecimento de um currículo simplificado.
- b) Envolvimento ativo das crianças (tanto atividade cerebral quanto atividade física) em sua aprendizagem.
- c) Situações de manejo de classe que favoreçam a dependência das crianças, em relação às atividades propostas.
- d) Desenvolvimento de atitudes que favoreçam a competição, à disciplina e o cumprimento das regras.

63) No Brasil, diversos educadores escreveram um documento denominado “Manifesto dos Pioneiros da Educação” (1932), em busca da democratização da educação. Segundo BARBOSA e HORN, os escolanovistas procuravam criar formas de organização do ensino que tivessem características, como:

- a) A ideia de valorização da educação convencional.
- b) A programação do ensino baseada na competência metodológica.
- c) O atendimento aos interesses e às necessidades dos alunos.
- d) A compartimentalização dos conhecimentos.

64) De acordo com BARBOSA e HORN, assinalar a alternativa que preenche a lacuna abaixo CORRETAMENTE:

Kilpatrick foi um importante sistematizador do _____ e o via como uma atividade extremamente valiosa para a educação, pois era a construção de uma situação pedagógica intencional, a partir da realidade em que o raciocínio substitui a memorização.

- a) plano de ensino
- b) método fonético
- c) trabalho com projetos
- d) currículo oficial

65) Segundo BARBOSA e HORN, nos últimos tempos, muitas modificações curriculares têm-se apresentado na Educação Infantil e, conseqüentemente, muitas são as dúvidas que aparecem em relação à avaliação nessa etapa de ensino. Com base nessa informação, assinalar a alternativa que preenche as lacunas abaixo CORRETAMENTE:

O grande desafio que se impõe ao professor consiste em propor situações de _____ que também sejam _____, em observar os alunos e em refletir. Uma série de estratégias podem ser pensadas a partir dessa perspectiva, como as de observar, documentar, refletir e compreender para poder acompanhar a trajetória dos alunos, bem como qualificar a prática pedagógica, redirecionando uma nova caminhada.

- a) aprendizagens - avaliativas
- b) conflitos - estimuladas
- c) aprendizagens - estimuladas
- d) conflitos - avaliativas

66) De acordo com HORN, não basta colocar os materiais em prateleira, bem alinhados. É fundamental a intervenção do professor para encorajar os alunos a interagirem com eles. Com base nessas afirmativas, em relação à distribuição dos materiais em sala e suas implicações no desenvolvimento da criança, analisar os itens abaixo:

- I - Os jogos dispostos em sala costumam não oferecer às crianças uma experiência intensa que prenda sua atenção, pois não são atrativos, muito menos contextualizados na sala de aula, seja no modo como se organizam, seja com sua relação ao fazer pedagógico do professor.
- II - O professor precisa entender que as suas ações, da organização do ambiente à solicitação de atividades, bem como os comportamentos e materiais oferecidos, têm repercussões no ato educativo.
- III - Os espaços devem ser educativos, estimulando a criança a criar, expressar emoções e a não interagir com outras crianças.

Estão CORRETOS:

- a) Somente os itens II e III.
- b) Somente os itens I e II.
- c) Somente os itens I e III.
- d) Todos os itens.

67) Em conformidade com BARBOSA, referente a rotina na Educação Infantil, analisar os itens abaixo:

- I - As questões do cotidiano e das rotinas ainda não são vistas como elemento central nas pedagogias da Educação Infantil.
- II - A criação pré-escolar encontra-se em um momento de vida em que precisa ter certa rotina de trabalho, que a situe em um tempo e espaço por ela vivenciado.

- a) Os itens I e II estão corretos.
- b) Somente o item I está correto.
- c) Os itens I e II estão incorretos.
- d) Somente o item II está correto.

68) Segundo BARBOSA, em relação à organização dos espaços na Educação Infantil, é INCORRETO afirmar que:

- a) A pedagogia para a primeira infância tem na organização do ambiente uma parte inconsistente e renunciável de seu projeto educacional.
- b) A organização do ambiente traduz uma maneira de compreender a infância, de entender seu desenvolvimento e o papel da educação e do educador.
- c) A organização do espaço é necessária para que o sujeito nele inserido possa adaptar-se e reconhecer-se.
- d) As diferentes formas de organizar o ambiente para o desenvolvimento de atividades de cuidado e educação das crianças traduzem os objetivos que os adultos possuem com relação ao futuro das novas gerações e às suas ideias pedagógicas.

69) Segundo CRAIDY e KAERCHER, as creches e as pré-escolas, nos dias atuais, possuem a função de:

- a) Adaptar as crianças ao seu grupo social.
- b) Complementar à ação da família.
- c) Transmitir as ideias e os valores difundidos pelos grupos dominantes.
- d) Suprir as necessidades assistenciais das famílias de baixa renda.

70) Segundo Piaget in CRAIDY e KAERCHER, a fase em que a criança constrói a capacidade de efetuar operações lógico-matemáticas (seriação e classificação), é denominada de estágio:

- a) Operacional-formal.
- b) Operacional-concreto.
- c) Sensório-motor.
- d) Pré-operacional.